

● Verilen sayı örüntülerindeki kuralı bulup işaretleyiniz.

1. 48 - 50 - 52 - 54 - 56 - 58 - 60

Sayılar ikişer artmıştır.

Sayılar ikişer eksilmiştir.

Sayılar üçer artmıştır.

2. 57 - 54 - 51 - 48 - 45 - 42 - 39

Sayılar üçer artmıştır.

Sayılar üçer eksilmiştir.

Sayılar dörder artmıştır.

3. 60 - 56 - 52 - 48 - 44 - 40 - 36

Sayılar üçer eksilmiştir.

Sayılar dörder eksilmiştir.

Sayılar dörder artmıştır.



● Aşağıdaki sayı örüntülerini devam ettiriniz.

4. 7 10 12 15 17 20 22

5. 50 49 47 46 44 43 41

6. 95 90 92 87 89 84 86

7. 87 84 80 77 73 70 66

● Aşağıdaki sayılar bir kurala göre sıralanmıştır. Kuralı bozan sayıları bulup işaretleyiniz.

8. 85 80 75 70 69 60 55 50 45 38

9. 73 67 69 63 65 60 61 55 58 51

10. 89 84 82 77 76 70 68 64 61 56

● Aşağıdaki sayı örüntülerinde boş bırakılan yerleri tamamlayınız.

1. 48 50 52 54

2. 50 55 60 65

3. 62 60 58 56

4. 8 12 16 20

5. 9 12 15 18

● Aşağıda sayı örüntüleri ve bu örüntülerdeki kurallar verilmiştir. Örüntülerle kuralları aynı harfle eşleştiriniz.

6. 58 - 60 - 62 - 64 - 66

Sayılar ikişer artmıştır. **A**

7. 4 - 7 - 10 - 13 - 16

Sayılar dörder eksilmiştir. **B**

8. 36 - 32 - 28 - 24 - 20

Sayılar beşer eksilmiştir. **C**

9. 95 - 90 - 85 - 80 - 75

Sayılar üçer artmıştır. **D**

● Aşağıda verilen sayıların kaç onluk, kaç birlikten oluştuğunu boş bırakılan yerlere yazınız.

10. 48 = \_\_\_\_\_ onluk + \_\_\_\_\_ birlik

11. 73 = \_\_\_\_\_ onluk + \_\_\_\_\_ birlik

12. 84 = \_\_\_\_\_ onluk + \_\_\_\_\_ birlik

13. 99 = \_\_\_\_\_ onluk + \_\_\_\_\_ birlik



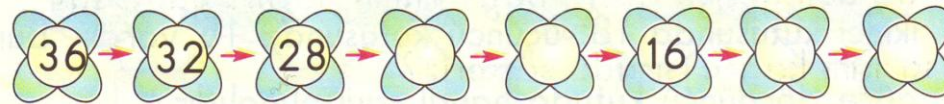
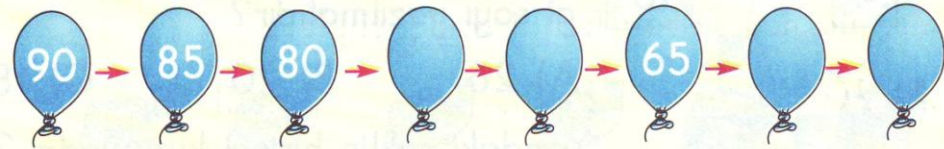

- 1 Aşağıdaki örüntünün kuralını bularak çiçeklerin yerine yazılacak sayıları bulalım. Bulduğumuz sayıları toplayalım.



$$\text{Çiçek} + \text{Kalp} + \text{Yıldız} = \dots$$

$$\dots + \dots + \dots = \dots$$

- 2 Aşağıdaki örüntülerde verilmeyen sayıları yazalım.



1. " 2 - 4 - 6 - ... - 10 - 12 ", sayı örüntüsünde noktalı yere hangi sayı gelmelidir?

A) 7 B) 8 C) 9

2. 15 20 30 40 Yandaki örüntüde boş yerlere sırasıyla hangi sayılar gelmelidir?

A) 25 - 35 B) 25 - 32 C) 22 - 35

3. " 16 - 20 - 24 - 26 - 28 ", sayı örüntüsünde kuralı bozan sayı hangisidir?

A) 20 B) 24 C) 26


4. "90 - 85 - 80 - ?", sayı örüntüsünü tamamlayan sayı kaçtır?

A) 70 B) 75 C) 82


5. "Kırk sekiz, kırk dört, kırk, ..."

Yukarıdaki noktalı yere aşağıdakilerden hangisi gelmelidir?

A) kırk iki B) otuz sekiz C) otuz altı

6.  Yandaki tabloda ? olan yere hangi sayı yazılmalıdır?

A) 26 B) 20 C) 18

7.  Yandaki şeklin birinci kutusunda 21, ikinci kutusunda 18, üçüncü kutusunda 15 vardır. Buna göre dördüncü kutuda hangi sayı olmalıdır?

A) 16 B) 13 C) 12