


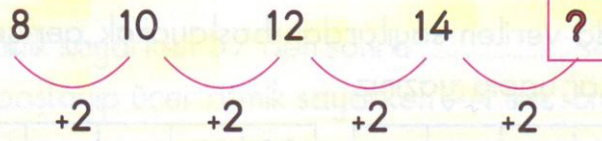
✿ Aşağıdaki örüntüyü inceleyiniz.



Örüntüyü hangi sayı izlemelidir?

Çözüm

Örüntüde sayılar ikişer artarak sıralanmıştır.



$14 + 2 = 16$, yerine 16 gelmelidir.



YAPALIM ÖĞRENELİM

Öğrenme Alanı: Sayılar

Alt Öğrenme Alanı: Doğal sayılar

Tarih :

Süre :

✿ Aşağıdaki sayı örüntülerinde verilmeyen sayıları bulunuz.

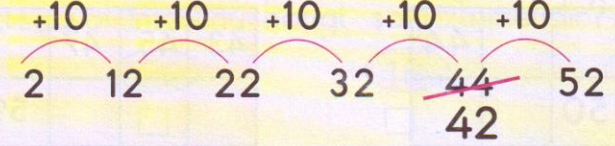


Aşağıdaki örüntüyü inceleyiniz.

✿ $2 - 12 - 22 - 32 - 44 - 52$ sayı örüntülerinde kuralı bozan sayı hangisidir?

Çözüm

Örüntünün kuralı: Sayılar onar artarak sıralanmıştır.



$32 + 10 = 42$, kuralı bozan sayı 44'tür.



YAPALIM ÖĞRENELİM

Öğrenme Alanı: Sayılar

Alt Öğrenme Alanı: Doğal sayılar

Tarih :

Süre :

Aşağıdaki örüntüde verilmeyen sayıları bulup yazınız. Örüntünün kuralını açıklayınız.



Örüntünün kuralı:

Aşağıdaki örüntüde kuralı bozan sayı hangisidir? Örüntünün kuralını açıklayınız.



Örüntünün kuralı: