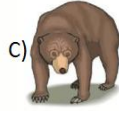



HAYAT BİLGİSİ

Adı:..... Soyadı:.....
Numarası: Sınıfı:..... Tarih:/...../.....

CANLILAR NASIL BESLENİRLER?

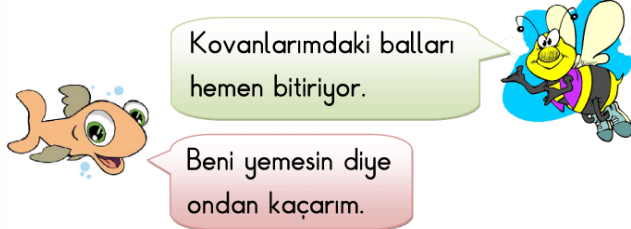
1. Aşağıdaki canlılardan hangisi hem etle hem de otla beslenir?



2. Erdem, resim defterine yapıştırmak için etle beslenen hayvanların görsellerini seçiyordu. Hangi seçenekteki görseli defterine yapıştırmamalıdır?



3. Balık ve arının sözünü ettiği hayvan aşağıdakilerden hangisidir?



A) Ayı B) Yılan C) At

4. Yıl sonu gösterisinde şarkısına uygun kostüm giyecek olan Nilay, hangi kostümü giymelidir?



Ben havucu çok yerim,
Lahanayı severim.
Yokuşu hızla çıkar,
İnişi güç inerim.

A) Pamuk Prens kostümü
B) Tavşan kostümü
C) Kedi kostümü


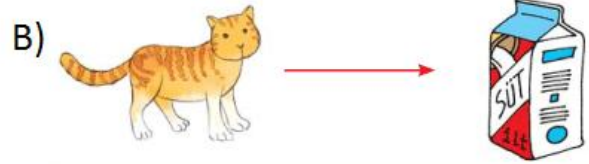
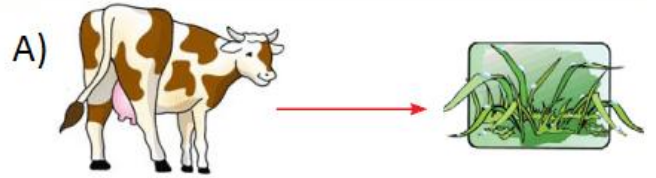
5. Aşağıdakilerden hangisi yanlıştır?

A) Her canlının yaşamını sürdürebilmesi için beslenmeye ihtiyacı vardır.



B) Bütün canlılar hem et hem ot yerler.

C) Bütün canlılar beslenir ve büyürler.

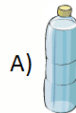
6. Aşağıdaki canlı ve besin eşleştirmelerinden hangisi yanlıştır?



7) Aşağıdaki canlılardan hangisi diğerlerine göre farklı bir ortamda yaşar?



8) Bütün canlıların aşağıdakilerden hangisine ihtiyacı vardır?



9) Aşağıdaki canlılardan hangisi sütle beslenir?

